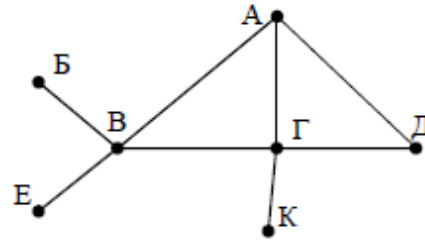


1. На рисунке справа схема дорог Н-ского района изображена в виде графа, в таблице содержатся сведения о протяжённости каждой из этих дорог (в километрах).

	П1	П2	П3	П4	П5	П6	П7
П1		7					
П2	7		8		3	4	
П3		8		11	6		
П4			11		5		
П5		3	6	5			9
П6		4					
П7					9		

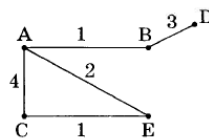


Так как таблицу и схему рисовали независимо друг от друга, то нумерация населённых пунктов в таблице никак не связана с буквенными обозначениями на графе. Определите, какова протяжённость дороги из пункта А в пункт Г. В ответе запишите целое число – так, как оно указано в таблице.

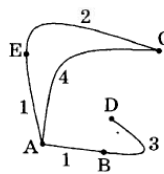
2. В таблице приведена стоимость перевозок между соседними железнодорожными станциями. Укажите схему, соответствующую таблице.

	A	B	C	D	E
A		1	4		1
B	1		2		
C	4	2			
D					3
E	1			3	

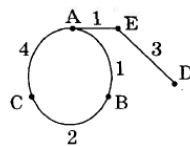
1)



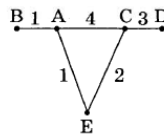
2)



3)



4)



3. Таблица стоимости перевозок устроена следующим образом: числа, стоящие на пересечениях строк и столбцов таблиц, означают стоимость проезда между соответствующими соседними станциями. Если пересечение строки и столбца пусто, то станции не являются соседними.  
 Укажите таблицу, для которой выполняется условие: «Минимальная стоимость проезда из А в В не больше 6».  
 Стоимость проезда по маршруту складывается из стоимостей проезда между соответствующими соседними станциями.

1)

	A	B	C	D	E
A			3	1	
B			4		2
C	3	4			2
D	1				
E		2	2		

2)

	A	B	C	D	E
A			3	1	1
B			4		
C	3	4			2
D	1				
E	1		2		

3)

	A	B	C	D	E
A			3	1	
B			4		1
C	3	4			2
D	1				
E		1	2		

4)

	A	B	C	D	E
A				1	
B			4		1
C		4		4	2
D	1		4		
E		1	2		

4. Между населенными пунктами А, В, С, D, E, F построены дороги, протяженность которых приведена в таблице. (Отсутствие числа в таблице означает, что прямой дороги между пунктами нет.)

	A	B	C	D	E	F
A		7	3			
B	7		2	4	1	
C	3	2		7	5	9
D		4	7		2	3
E		1	5	2		7
F			9	3	7	

Определите длину кратчайшего пути между пунктами А и F (при условии, что передвигаться можно только по построенным дорогам).

5. На рисунке справа схема дорог Н-ского района изображена в виде графа; в таблице слева содержатся сведения о протяженности каждой из этих дорог (в километрах).

	П1	П2	П3	П4	П5	П6
П1		10			8	5
П2	10			20	12	
П3				4		
П4		20	4		15	
П5	8	12		15		7
П6	5				7	

Так как таблицу и схему рисовали независимо друг от друга, то нумерация населённых пунктов в таблице никак не связана с буквенными обозначениями на графе. Определите, какова протяженность дороги из пункта Б в пункт В. В ответе запишите целое число – так, как оно указано в таблице.

6. Между населёнными пунктами А, В, С, D, E, F построены дороги, протяженность которых приведена в таблице. Отсутствие числа в таблице означает, что прямой дороги между пунктами нет.

	A	B	C	D	E	F
A		3	7		6	
B	3			4	4	
C	7			5		9
D		4	5			5
E	6	4				8
F			9	5	8	

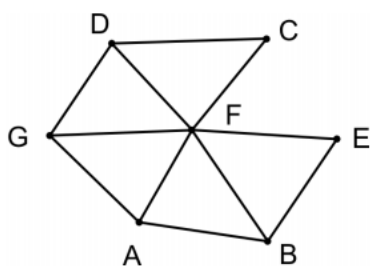
Определите длину кратчайшего пути между пунктами А и F при условии, что передвигаться можно только по указанным в таблице дорогам.

7. Между четырьмя местными аэропортами: ВОСТОРГ, ЗАРЯ, ОЗЕРНЫЙ и ГОРКА — ежедневно выполняются авиарейсы. Приведен фрагмент расписания перелетов между ними. Путешественник оказался в аэропорту ВОСТОРГ в полночь (0:00). Определите самое раннее время, когда он может попасть в аэропорт ГОРКА.

Аэропорт вылета	Аэропорт прилета	Время вылета	Время прилета
ВОСТОРГ	ГОРКА	16:15	18:30
ОЗЕРНЫЙ	ЗАРЯ	13:40	15:50
ОЗЕРНЫЙ	ВОСТОРГ	14:10	16:20
ГОРКА	ОЗЕРНЫЙ	17:05	19:20
ВОСТОРГ	ОЗЕРНЫЙ	11:15	13:20
ЗАРЯ	ОЗЕРНЫЙ	16:20	18:25
ВОСТОРГ	ЗАРЯ	14:00	16:15
ЗАРЯ	ГОРКА	16:05	18:15
ГОРКА	ЗАРЯ	14:10	16:25
ОЗЕРНЫЙ	ГОРКА	18:35	19:50

8. Грунтовая дорога проходит последовательно через населенные пункты А, В, С и D. При этом длина дороги между А и В равна 80 км, между В и С — 50 км и между С и D — 10 км.  
Между А и С построили новое асфальтовое шоссе длиной 40 км. Оцените минимально возможное время движения велосипедиста (в часах) из пункта А в пункт В, если его скорость по грунтовой дороге — 20 км/час, по шоссе — 40 км/час?

9. На рисунке слева изображена схема дорог Н-ского района, в таблице звёздочкой обозначено наличие дороги из одного населённого пункта в другой. Отсутствие звёздочки означает, что такой дороги нет.

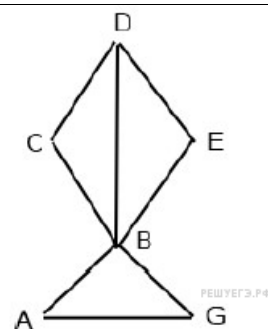


	1	2	3	4	5	6	7
1			*	*			*
2			*		*	*	
3	*	*		*	*	*	*
4	*		*				
5		*	*				
6		*	*				*
7	*		*			*	

Каждому населённому пункту на схеме соответствует его номер в таблице, но неизвестно, какой именно номер. Определите, какие номера населённых пунктов в таблице могут соответствовать населённым пунктам А и G на схеме. В ответе запишите эти два номера в возрастающем порядке без пробелов и знаков препинания.

10. На рисунке справа схема дорог Н-ского района изображена в виде графа, в таблице содержатся сведения о дорогах между населенными пунктами (звездочка означает, что дорога между соответствующими городами есть).

	1	2	3	4	5	6
1		*		*		
2	*			*		*
3				*	*	
4	*	*	*		*	*
5			*	*		
6		*		*		



Так как таблицу и схему рисовали независимо друг от друга, то нумерация населённых пунктов в таблице никак не связана с буквенными обозначениями на графе. Определите номера населенных пунктов А и G в таблице. В ответе запишите числа в порядке возрастания без разделителей.

11. Между населёнными пунктами А, В, С, D, E, F, Z построены дороги с односторонним движением. В таблице указана протяжённость каждой дороги. Отсутствие числа в таблице означает, что прямой дороги между пунктами нет. Например, из А в В есть дорога длиной 4 км, а из В в А дороги нет.

	A	B	C	D	E	F	Z
A		4	6				30
B			3				
C				11			27
D					4	7	10
E						4	8
F					5		2
Z	29						

Сколько существует таких маршрутов из А в Z, которые проходят через 6 и более населенных пунктов? Пункты А и Z при подсчете учитывать. Два раза проходить через один пункт нельзя.

12. Между населёнными пунктами А, В, С, D, E, F, Z построены дороги, протяжённость которых приведена в таблице. (Отсутствие числа в таблице означает, что прямой дороги между пунктами нет.)

	A	B	C	D	E	F	Z
A		4	6	10			
B	4			5			
C	6			2			
D	10	5	2		4	3	8
E				4			5
F				3			6
Z				8	5	6	

Определите длину кратчайшего пути между пунктами А и Z (при условии, что передвигаться можно только по построенным дорогам).

13. Между населёнными пунктами А, В, С, D, E, F, Z построены дороги с односторонним движением. В таблице указана протяжённость каждой дороги. Отсутствие числа в таблице означает, что прямой дороги между пунктами нет. Например, из А в В есть дорога длиной 4 км, а из В в А дороги нет.

	A	B	C	D	E	F	Z
A		4	6				30
B			3	4			
C				11			27
D					4	7	10
E						4	8
F					5		2
Z	29						

Сколько существует таких маршрутов из А в Z, которые проходят через 6 и более населенных пунктов? Пункты А и Z при подсчете учитывать. Два раза проходить через один пункт нельзя.

14. Между населёнными пунктами А, В, С, D, E, F построены дороги, протяжённость которых приведена в таблице. (Отсутствие числа в таблице означает, что прямой дороги между пунктами нет.)

	A	B	C	D	E	F
A		2	4	5		16
B	2			3	2	
C	4			3		
D	5	3	3		2	3
E		2		2		8
F	16			3	8	

Определите длину кратчайшего пути между пунктами А и F, проходящего через пункт С и не проходящего через пункт В (при условии, что передвигаться можно только по построенным дорогам). Два раза проходить через один пункт нельзя.

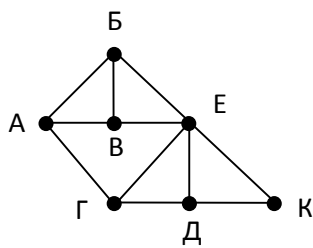
15. Между населёнными пунктами А, В, С, D, E, F, Z построены дороги с односторонним движением. В таблице указана протяжённость каждой дороги. Отсутствие числа в таблице означает, что прямой дороги между пунктами нет. Например, из А в В есть дорога длиной 4 км, а из В в А дороги нет.

	A	B	C	D	E	F	Z
A		4	6				30
B			3	8			
C				11	10		27
D					4	3	10
E						4	1
F							2
Z	29						

Курьеру требуется проехать из А в Z, посетив не менее 6 населённых пунктов. Пункты А и Z при подсчёте учитываются, два раза проходить через один пункт нельзя. Какова наименьшая возможная длина маршрута курьера? В ответе запишите натуральное число – длину минимального маршрута.

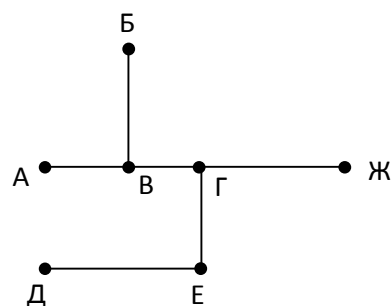
16. На рисунке справа схема дорог Н-ского района изображена в виде графа, в таблице содержатся сведения о длинах этих дорог (в километрах). Так как таблицу и схему рисовали независимо друг от друга, то нумерация населённых пунктов в таблице никак не связана с буквенными обозначениями на графе. Определите, какова длина дороги из пункта D в пункт E. В ответе запишите целое число – так, как оно указано в таблице.

	П1	П2	П3	П4	П5	П6	П7
П1	■		11		13		16
П2		■		10		18	12
П3	11		■	25			14
П4		10	25	■		15	
П5	13				■		18
П6		18		15		■	20
П7	16	12	14		18	20	■



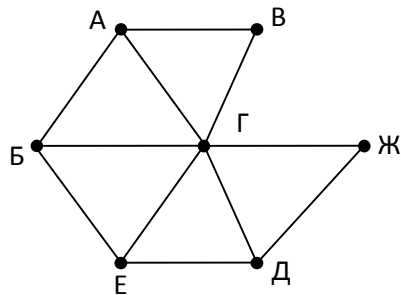
17. На рисунке справа схема дорог Н-ского района изображена в виде графа, в таблице содержатся сведения о длинах этих дорог (в километрах). Так как таблицу и схему рисовали независимо друг от друга, то нумерация населённых пунктов в таблице никак не связана с буквенными обозначениями на графе. Определите длину дороги между пунктами Г и Ж. Передвигаться можно только по указанным дорогам.

	П1	П2	П3	П4	П5	П6	П7
П1	■					10	
П2		■	7		8	12	
П3		7	■				
П4				■	5		
П5		8		5	■		4
П6	10	12				■	
П7					4		■



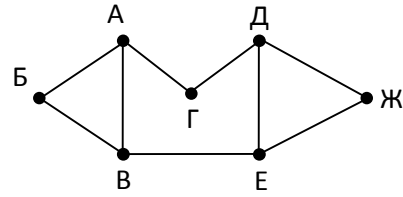
18. На рисунке слева изображена схема дорог Н-ского района, в таблице звёздочкой обозначено наличие дороги из одного населённого пункта в другой. Отсутствие звёздочки означает, что такой дороги нет. Определите, какие номера населённых пунктов в таблице могут соответствовать населённым пунктам Б и Е на схеме. В ответе запишите эти два номера в возрастающем порядке без пробелов и знаков препинания.

	1	2	3	4	5	6	7
1	■		*	*			*
2		■	*		*	*	
3	*	*	■	*	*	*	*
4	*		*	■			
5		*	*		■		
6		*	*			■	*
7	*		*			*	■



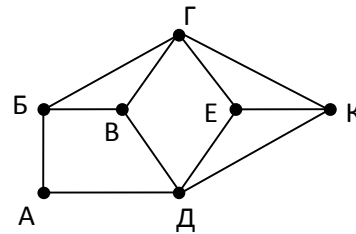
19. На рисунке слева изображена схема дорог Н-ского района, в таблице звёздочкой обозначено наличие дороги из одного населённого пункта в другой. Отсутствие звёздочки означает, что такой дороги нет. Определите, какие номера населённых пунктов в таблице могут соответствовать населённым пунктам В и Е на схеме. В ответе запишите эти два номера в возрастающем порядке без пробелов и знаков препинания.

	1	2	3	4	5	6	7
1	■					*	*
2		■	*	*		*	
3		*	■	*			
4		*	*	■	*		
5				*	■		*
6	*	*				■	*
7	*				*	*	■

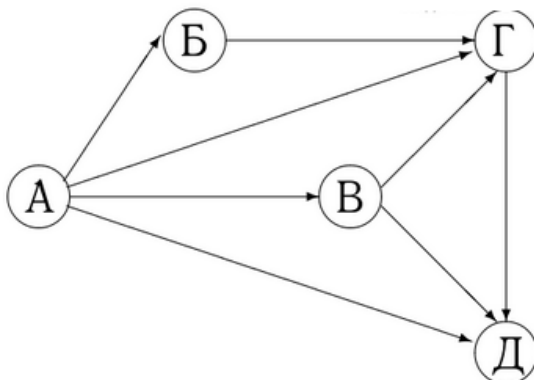


20. На рисунке справа схема дорог Н-ского района изображена в виде графа, в таблице содержатся сведения о длинах этих дорог (в километрах). Так как таблицу и схему рисовали независимо друг от друга, то нумерация населённых пунктов в таблице никак не связана с буквенными обозначениями на графе. Определите длину кратчайшего пути из пункта А в пункт В, если передвигаться можно только по указанным дорогам. В ответе запишите целое число – длину пути в километрах.

	П1	П2	П3	П4	П5	П6	П7
П1	■		18	10	8	15	
П2		■	20		11	12	7
П3	18	20	■			9	
П4	10			■			14
П5	8	11			■		6
П6	15	12	9			■	
П7		7		14	6		■



21. На рисунке схема дорог некоторого района изображена в виде графа, в таблице содержатся сведения о длине этих дорог.

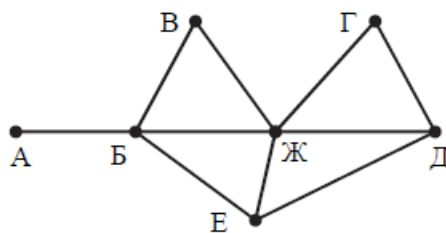


	П1	П2	П3	П4	П5
П1					1
П2	1		1	4	3
П3				3	2
П4					
П5				1	

Так как таблицу и схему рисовали независимо друг от друга, нумерация населённых пунктов в таблице никак не связана с буквенными обозначениями на графе. Определите длину самого протяжённого маршрута от пункта А до Г.

22. На рисунке схема дорог Н-ского района изображена в виде графа, в таблице содержатся сведения о протяжённости каждой из этих дорог (в километрах).

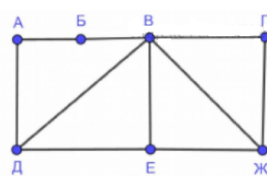
		Номер пункта						
		1	2	3	4	5	6	7
Номер пункта	1				9			7
	2				5		11	
	3						12	
	4	9	5			4	13	15
	5				4		10	8
	6		11	12	13	10		
	7	7			15	8		



Так как таблицу и схему рисовали независимо друг от друга, то нумерация населённых пунктов в таблице никак не связана с буквенными обозначениями на графе. Определите, какова протяжённость дороги из пункта Г в пункт Ж. В ответе запишите целое число – так, как оно указано в таблице.

23. На рисунке схема дорог изображена в виде графа, в таблице звёздочками обозначено наличие дороги между населёнными пунктами.

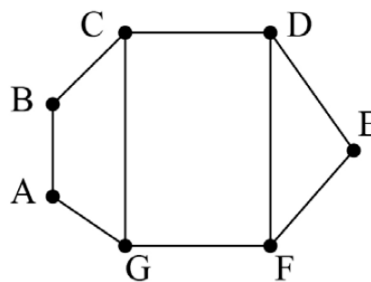
	П1	П2	П3	П4	П5	П6	П7
П1		*		*			*
П2	*		*	*	*		*
П3		*				*	*
П4	*	*					
П5		*				*	
П6			*		*		
П7	*	*	*				



Так как таблицу и схему рисовали независимо друг от друга, нумерация населённых пунктов в таблице никак не связана с буквенными обозначениями на графе. Выпишите последовательно без пробелов и знаков препинания указанные на графе буквенные обозначения пунктов от П1 до П7: сначала букву, соответствующую П1, затем букву, соответствующую П2, и т. д.

24. На рисунке схема дорог изображена в виде графа, в таблице содержатся сведения о длине этих дорог в километрах.

	П1	П2	П3	П4	П5	П6	П7
П1			11	15		20	
П2			17			14	12
П3	11	17			6		
П4	15					8	
П5			6				9
П6	20	14		8			
П7		12			9		

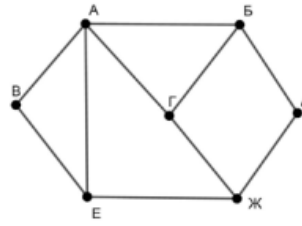


Так как таблицу и схему рисовали независимо друг от друга, нумерация населённых пунктов в таблице никак не связана с буквенными обозначениями на графе. Известно, что длина дороги DE больше, чем длина дороги AB. Определите длину дороги AG. В ответе запишите целое число – длину дороги в километрах.



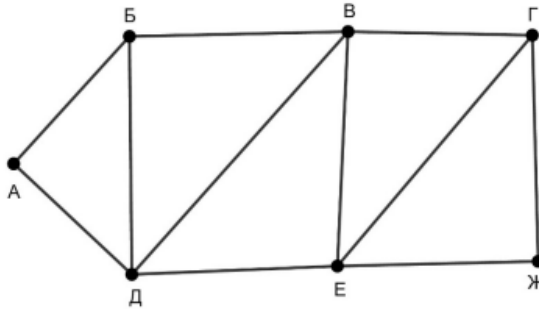
25. На рисунке схема дорог изображена в виде графа, в таблице звёздочками обозначено наличие дороги между населёнными пунктами.

	П1	П2	П3	П4	П5	П6	П7
П1						*	*
П2			*		*	*	
П3		*			*		
П4					*	*	*
П5		*	*	*			*
П6	*	*		*			
П7	*			*	*		



Так как таблицу и схему рисовали независимо друг от друга, нумерация населённых пунктов в таблице никак не связана с буквенными обозначениями на графе. Выпишите последовательно без пробелов и знаков препинания указанные на графе буквенные обозначения пунктов от П1 до П7: сначала букву, соответствующую П1, затем букву, соответствующую П2, и т. д.

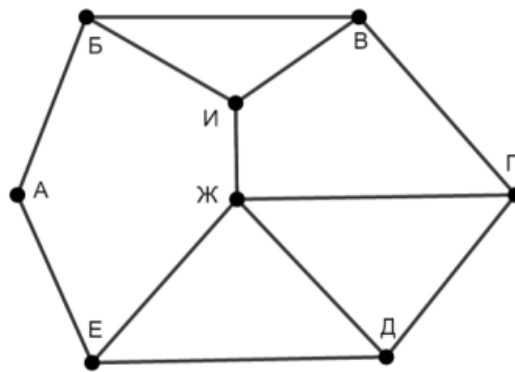
26. На рисунке схема дорог изображена в виде графа, в таблице содержатся сведения о длине этих дорог в километрах.



Так как таблицу и схему рисовали независимо друг от друга, нумерация населённых пунктов в таблице никак не связана с буквенными обозначениями на графе. Известно, что длина дороги ВЕ меньше, чем длина дороги ВД. Определите длину дороги АД. В ответе запишите целое число – длину дороги в километрах.

	П1	П2	П3	П4	П5	П6	П7
П1				23		20	
П2			14		15		9
П3		14		17	24	18	
П4	23		17		12	19	
П5		15	24	12			13
П6	20		18	19			
П7		9			13		

27. На рисунке схема дорог изображена в виде графа, в таблице звёздочками обозначено наличие дороги между населёнными пунктами.



Так как таблицу и схему рисовали независимо друг от друга, нумерация населённых пунктов в таблице никак не связана с буквенными обозначениями на графе. Выпишите последовательно, без пробелов и знаков препинания указанные на графе буквенные обозначения пунктов от П1 до П8: сначала букву, соответствующую П1, затем букву, соответствующую П2, и т. д.

	П1	П2	П3	П4	П5	П6	П7	П8
П1		*	*	*				
П2	*			*		*		
П3	*						*	
П4	*	*				*		*
П5						*	*	*
П6		*		*	*			
П7			*		*			*
П8				*	*		*	